

Pozdravljeni, otroci in starši iz skupine PB 4.a, 5.a!

Za nami je že kar nekaj šolanja na daljavo. Ste se privadili na ta način šolanja?

Kot učiteljica PB vas obveščava, da je potrebno šolske obveznosti sproti delat in to SAMOSTOJNO!

Pri tem pazite na lepo pisavo in na slovnične napake!

Ko naredite sami vse dnevne šolske obveznosti, naj vam jih starši pregledajo in jih sami potem popravite.

Učiteljica Tea (ki vas poučuje ISP MAT IN SLO) je ugotovila veliko napak pri zapisih v zvezke. Zato sva za vas pripravili en lahek...

Učni list iz MAT :) za utrjevanje nove snovi!

Naloge, ki jih rešijo učenci 4.razreda:

**Pisno deljenje z enojnim prehodom**

1. Deli. Rešitve so zapisane v polju spodaj. Prečrtaj števili, ki nista rešitvi danih računov.

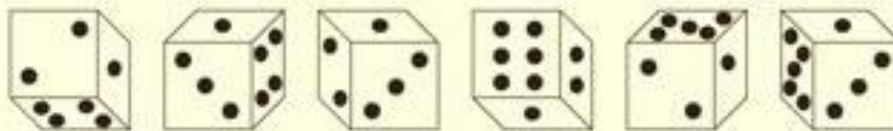
1 5 2 : 2 =	2 5 5 : 3 =	3 9 2 : 4 =											
2 3 0 : 5 =	4 9 8 : 6 =	1 1 2 : 7 =											
7 0 4 : 8 =	6 1 2 : 9 =	5 9 2 : 8 =											
6 2 3 : 7 =	3 1 2 : 6 =	1 2 5 : 5 =											
16	88	89	68	76	86	85	52	25	75	83	98	46	74

## Naloge za učence 5.razreda:

### Mreža kocke in kvadra

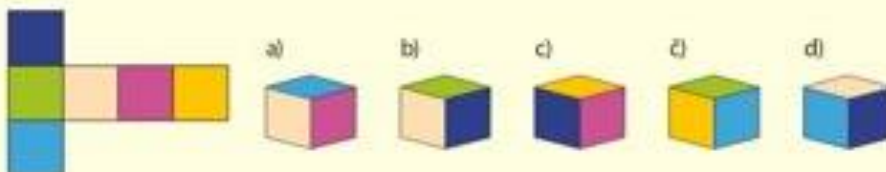
1. Na poseben list papirja nariši mrežo kocke z dolžino roba 4 cm. Nariši tudi mrežo kvadra z robovi 5 cm, 4 cm in 3 cm. Pri obeh mrežah namaži eno mejno ploskev z lepilom in jo prilepi spodaj tako, da lahko kocko oz. kvader kadarkoli sestaviš in podreš kar tujaj.

2. Pri igralni kocki imata nasprotni mejni ploskvi vsoto pik vedno 7. Obkroži slike, ki bi lahko bile slike igralnih kock.

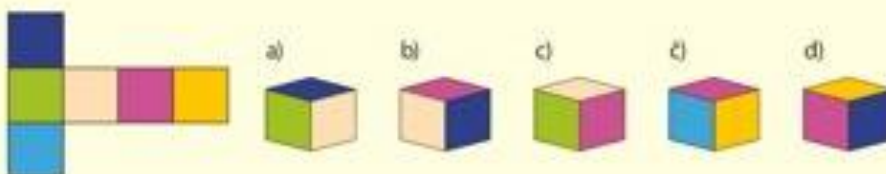


3. katerih kock ne moreš sestaviti iz dane mreže?

1.



2.



Upava,

da ni bilo pretežko...

učiteljici Alenka in Tea